

VERIFICA LE CONOSCENZE

1. Indica con una crocetta la risposta giusta.

- | | |
|--|---|
| <p>a. Il Massiccio Centrale è un rilievo:
 <input type="checkbox"/> a. del Regno Unito
 <input type="checkbox"/> b. della Francia
 <input type="checkbox"/> c. della Germania</p> <p>b. I Balcani sono rilievi:
 <input type="checkbox"/> a. della Bulgaria
 <input type="checkbox"/> b. dell’Austria
 <input type="checkbox"/> c. della Svezia</p> <p>c. Tra la Francia e la Spagna ci sono:
 <input type="checkbox"/> a. i Carpazi
 <input type="checkbox"/> b. i Balcani
 <input type="checkbox"/> c. i Pirenei</p> <p>d. Gli Urali sono monti:
 <input type="checkbox"/> a. della Polonia
 <input type="checkbox"/> b. della Federazione russa
 <input type="checkbox"/> c. della Repubblica Ceca</p> <p>e. Il Dnepr scorre:
 <input type="checkbox"/> a. in Bulgaria
 <input type="checkbox"/> b. in Ucraina
 <input type="checkbox"/> c. in Finlandia</p> <p>f. Il Danubio ha la sua foce:
 <input type="checkbox"/> a. in Romania
 <input type="checkbox"/> b. in Ungheria
 <input type="checkbox"/> c. in Moldavia</p> | <p>g. Il Reno ha la sua foce:
 <input type="checkbox"/> a. nei Paesi Bassi
 <input type="checkbox"/> b. in Germania
 <input type="checkbox"/> c. in Francia</p> <p>h. La Senna passa:
 <input type="checkbox"/> a. per Bonn
 <input type="checkbox"/> b. per Rotterdam
 <input type="checkbox"/> c. per Parigi</p> <p>i. Lisbona è attraversata:
 <input type="checkbox"/> a. dall’Ebro
 <input type="checkbox"/> b. dal Tago
 <input type="checkbox"/> c. dalla Garonna</p> <p>l. Il fiume più lungo della Federazione russa è:
 <input type="checkbox"/> a. il Volga
 <input type="checkbox"/> b. il Don
 <input type="checkbox"/> c. il Rodano</p> <p>m. Il lago Balaton si trova:
 <input type="checkbox"/> a. in Bulgaria
 <input type="checkbox"/> b. in Romania
 <input type="checkbox"/> c. in Ungheria</p> <p>n. Il Paese che ha più laghi è:
 <input type="checkbox"/> a. la Svezia
 <input type="checkbox"/> b. l’Italia
 <input type="checkbox"/> c. la Finlandia</p> |
|--|---|

2. Indica con una crocetta se le affermazioni sono vere (V) o false (F).

- | | | |
|---|----------------------------|----------------------------|
| a. La capitale della Spagna è Lisbona. | <input type="checkbox"/> V | <input type="checkbox"/> F |
| b. Porto si trova in Belgio. | <input type="checkbox"/> V | <input type="checkbox"/> F |
| c. Liverpool si trova nel Regno Unito. | <input type="checkbox"/> V | <input type="checkbox"/> F |
| d. La capitale della Norvegia è Oslo. | <input type="checkbox"/> V | <input type="checkbox"/> F |
| e. Il Liechtenstein si trova tra Francia e Spagna. | <input type="checkbox"/> V | <input type="checkbox"/> F |
| f. La Valletta è la capitale di Malta. | <input type="checkbox"/> V | <input type="checkbox"/> F |
| g. Riga si trova in Lituania. | <input type="checkbox"/> V | <input type="checkbox"/> F |
| h. Kiev è la capitale dell’Ucraina. | <input type="checkbox"/> V | <input type="checkbox"/> F |
| i. La Finlandia confina con la Federazione russa. | <input type="checkbox"/> V | <input type="checkbox"/> F |
| l. Rotterdam è in Danimarca. | <input type="checkbox"/> V | <input type="checkbox"/> F |
| m. San Pietroburgo è la capitale della Federazione russa. | <input type="checkbox"/> V | <input type="checkbox"/> F |
| n. Bucarest è la capitale dell’Ungheria. | <input type="checkbox"/> V | <input type="checkbox"/> F |
| o. La capitale della Croazia è Zagabria. | <input type="checkbox"/> V | <input type="checkbox"/> F |
| p. Zurigo è in Germania. | <input type="checkbox"/> V | <input type="checkbox"/> F |
| q. Varsavia è la capitale della Polonia. | <input type="checkbox"/> V | <input type="checkbox"/> F |
| r. Lione è in Irlanda. | <input type="checkbox"/> V | <input type="checkbox"/> F |

3. Indica con una crocetta la risposta giusta.

- | | |
|--|--|
| <p>a. Quale di queste catene montane non fa parte dell'Europa?
 <input type="checkbox"/> a. Alpi
 <input type="checkbox"/> b. Carpazi
 <input type="checkbox"/> c. Ande</p> <p>b. I Pirenei dividono:
 <input type="checkbox"/> a. la Germania dalla Spagna
 <input type="checkbox"/> b. la Francia dalla Spagna
 <input type="checkbox"/> c. la Spagna dal Portogallo</p> <p>c. Qual è il Paese che nel corso dei secoli ha continuato a strappare terra al mare?
 <input type="checkbox"/> a. Paesi Bassi
 <input type="checkbox"/> b. Regno Unito
 <input type="checkbox"/> c. Francia</p> <p>d. Per gran parte del suo corso il Reno bagna:
 <input type="checkbox"/> a. il Regno Unito
 <input type="checkbox"/> b. i Paesi Bassi
 <input type="checkbox"/> c. la Germania</p> <p>e. Il Danubio attraversa in Europa le regioni:
 <input type="checkbox"/> a. settentrionali
 <input type="checkbox"/> b. centro-orientali
 <input type="checkbox"/> c. meridionali</p> <p>f. Importanti giacimenti di petrolio si trovano:
 <input type="checkbox"/> a. nel mare del Nord
 <input type="checkbox"/> b. in Francia
 <input type="checkbox"/> c. in Spagna</p> <p>g. In generale, il tenore di vita dell'Europa è:
 <input type="checkbox"/> a. molto alto
 <input type="checkbox"/> b. basso
 <input type="checkbox"/> c. molto basso</p> | <p>h. Storicamente il primo Paese europeo in cui si sviluppò l'industria è stato:
 <input type="checkbox"/> a. la Spagna
 <input type="checkbox"/> b. la Polonia
 <input type="checkbox"/> c. la Gran Bretagna</p> <p>i. Oggi uno dei Paesi europei maggiormente industrializzati è:
 <input type="checkbox"/> a. la Grecia
 <input type="checkbox"/> b. la Germania
 <input type="checkbox"/> c. la Finlandia</p> <p>l. Quale tra questi Paesi ha il Pil pro-capite più alto?
 <input type="checkbox"/> a. Svizzera
 <input type="checkbox"/> b. Italia
 <input type="checkbox"/> c. Polonia</p> <p>m. I Paesi europei importano da quelli in via di sviluppo:
 <input type="checkbox"/> a. prodotti alimentari e materie prime
 <input type="checkbox"/> b. macchinari e manufatti
 <input type="checkbox"/> c. impianti industriali</p> <p>n. I maggiori porti commerciali europei si trovano nell'Europa:
 <input type="checkbox"/> a. del Sud
 <input type="checkbox"/> b. dell'Est
 <input type="checkbox"/> c. del Nord</p> <p>o. L'Unione europea (Ue) raggruppa:
 <input type="checkbox"/> a. tutti i Paesi europei
 <input type="checkbox"/> b. 20 Paesi
 <input type="checkbox"/> c. 28 Paesi</p> |
|--|--|

4. Indica con una crocetta se le affermazioni sono vere (V) o false (F).

- | | | |
|--|----------------------------|----------------------------|
| a. La Spagna è a est dell'Italia. | <input type="checkbox"/> V | <input type="checkbox"/> F |
| b. Parigi è a nord-ovest di Milano. | <input type="checkbox"/> V | <input type="checkbox"/> F |
| c. Atene è a est della Sicilia. | <input type="checkbox"/> V | <input type="checkbox"/> F |
| d. Londra è a est di Minsk. | <input type="checkbox"/> V | <input type="checkbox"/> F |
| e. L'Estonia è a sud della Lettonia. | <input type="checkbox"/> V | <input type="checkbox"/> F |
| f. Gli Urali rappresentano il confine orientale dell'Europa. | <input type="checkbox"/> V | <input type="checkbox"/> F |
| g. La Croazia confina con l'Italia. | <input type="checkbox"/> V | <input type="checkbox"/> F |
| h. La Moldavia è a est della Romania. | <input type="checkbox"/> V | <input type="checkbox"/> F |
| i. La Norvegia confina con la Federazione russa. | <input type="checkbox"/> V | <input type="checkbox"/> F |
| l. La Lituania confina con la Federazione russa. | <input type="checkbox"/> V | <input type="checkbox"/> F |
| m. La Bulgaria è a nord della Grecia. | <input type="checkbox"/> V | <input type="checkbox"/> F |

VERIFICA LE COMPETENZE

5. Localizza sulla carta muta dell'Europa almeno 20 Stati. Riporta i loro nomi nella tabella e indica di ciascuno di essi la capitale.



Stato	capitale

Stato	capitale

6. Osserva l'immagine.

- a. Secondo te, in quale area dell'Europa ci troviamo?
- a. meridionale
- b. settentrionale
- b. Quale potrebbe essere il clima?
- a. atlantico
- b. mediterraneo
- c. Quali potrebbero essere le attività economiche prevalenti?
- a. agricoltura
- b. allevamento
- c. turismo




7. Osserva l'immagine.

- a. Secondo te, in quale area dell'Europa ci troviamo?
- a. meridionale
- b. centrale
- b. Quale potrebbe essere il clima?
- a. mediterraneo
- b. continentale
- c. Che tipo di insediamento è illustrato?
- a. urbano
- b. rurale



8. Osserva l'immagine.

- a. Secondo te, in quale ambiente europeo ci troviamo?
- a. montano
- b. continentale
- b. Questo è un ambiente:
- a. poco umanizzato
- b. molto umanizzato
- c. Quali tipi di industria sono rappresentati?
- a. estrattiva
- b. informatica
- c. siderurgica
- d. alimentare
- e. metallurgica

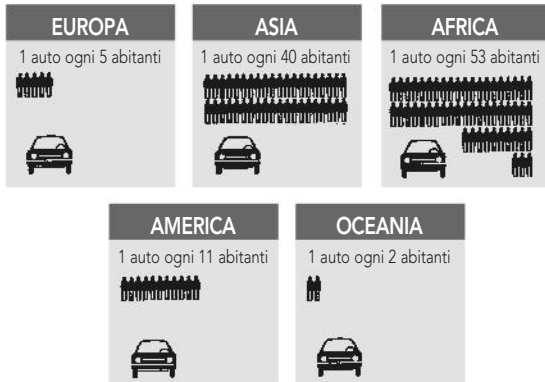


UTILIZZARE DATI, GRAFICI E CARTE

9. Indica con una crocetta la risposta giusta.

a. Il continente che ha percentualmente più auto rispetto al numero di abitanti è:

- a. l'Oceania
- b. l'Africa
- c. l'Europa

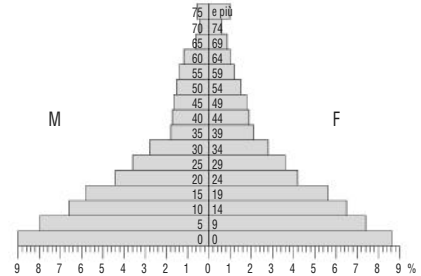


b. Nel 1991 il continente che aveva il primato del traffico aereo delle merci era:

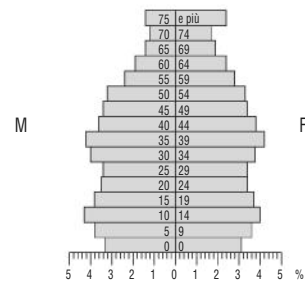
- a. l'Asia
- b. l'Europa
- c. America del Nord

Il traffico aereo delle merci		nel 1991	nel 2001
Africa	1,140	1,830	(in milioni di tonnellate per km di linea aerea)
Asia	16,453	45,800	
Europa	19,210	36,300	
Medio Oriente	2,135	4,110	
America del Nord	15,571	25,600	
America latina	2,651	4,800	

PIRAMIDE 1




PIRAMIDE 2



- c. Osserva queste piramidi d'età. La percentuale di popolazione tra i 20 e i 24 anni è:
- a. più alta nella popolazione rappresentata dalla piramide 1
 - b. più alta nella popolazione rappresentata dalla piramide 2
 - c. pari nelle due popolazioni
- d. Quale delle due piramidi è relativa a una popolazione giovane?
- a. piramide 1
 - b. piramide 2
 - c. entrambe

10. Osserva la carta della densità demografica francese e poi indica con una crocetta se le affermazioni sono vere (V) o false (F).



- a. La Francia ha una distribuzione piuttosto regolare della popolazione. V F
- b. Le aree con un'alta densità di popolazione sono limitate. V F
- c. L'area con maggior densità di popolazione è quella della costa atlantica. V F
- d. La concentrazione di città è maggiore nella parte occidentale. V F
- e. Nel complesso, il territorio francese ha una densità di popolazione molto elevata. V F

UTILIZZARE LE PAROLE DEL LINGUAGGIO GEOGRAFICO

11. Indica con una crocetta se le affermazioni sono vere (V) o false (F).

- a. Le pianure alluvionali sono quelle originate dalla millenaria azione di deposito dei detriti trasportati dai fiumi. V F
- b. I polder sono pianure naturali. V F
- c. Il fiordo è una profonda insenatura. V F
- d. Le anse sono ampie curve descritte dal corso di un fiume. V F
- e. Il bioma è un ambiente naturale con determinate caratteristiche climatiche, biologiche, geologiche e morfologiche. V F
- f. La taiga è il paesaggio con vegetazione di muschi e licheni. V F
- g. La foresta di conifere è il paesaggio tipico dell'ambiente mediterraneo. V F
- h. Il tasso di natalità indica il numero di nati in un anno ogni 100 abitanti. V F
- i. La densità di popolazione è il rapporto tra popolazione e superficie di un territorio. V F
- l. Il Pil è il valore monetario di tutti i beni e servizi prodotti in un Paese in un determinato periodo. V F

SOLUZIONI DEI TEST D'INGRESSO – TERZO ANNO

Verifica le conoscenze

- 1 a. b; b. a; c. c; d. b; e. b; f. a; g. a; h. c; i. b; l. a; m. c; n. c
- 2 a. F; b. F; c. V; d. V; e. F; f. V; g. F; h. V; i. V; l. F; m. F; n. F; o. V; p. F; q. V; r. F
- 3 a. c; b. b; c. a; d. c; e. b; f. a; g. a; h. c; i. b; l. a; m. a; n. c; o. c
- 4 a. F; b. V; c. V; d. F; e. F; f. V; g. F; h. V; i. V; l. F; m. V

Verifica le competenze

- 5 Risposta aperta
- 6 a. a; b. b; c. b
- 7 a. b; b. b; c. b
- 8 a. b; b. b; c. a, c, e
- 9 a. a; b. b; c. b; d. a
- 10 a. F; b. V; c. F; d. F; e. F
- 11 a. V; b. F; c. V; d. V; e. V; f. F; g. F; h. V; i. V; l. V